

ATELIER 1 Groupe 3

On a mesuré l'énergie électrique (en Joules) consommée par une bouilloire électrique pendant une durée de fonctionnement (en secondes).

Après plusieurs mesures pour le même appareil, on a reporté les résultats dans le tableau suivant:

Durée d (en s)	25	30	60	100	148	324
Energie électrique E (en J)	52500	63000	126000	210000	310800	680400

1°) Que peut-on dire de l'énergie électrique et de la durée ?

2°) On appelle f la fonction qui à la durée d en secondes associe l'énergie électrique E en joules de cet appareil.

Quelle est l'expression algébrique de la fonction f ? Compléter:

$$E = f(d) = \dots\dots\dots$$

Une situation de proportionnalité peut être traduite par une fonction appelée fonction linéaire : l'image d'un nombre est obtenue en multipliant ce nombre par une constante (le coefficient de proportionnalité).

3°) Compléter:

Quelle est l'image de 25 par la fonction f ?

Quel est l'antécédent de 126 000 par la fonction f ?

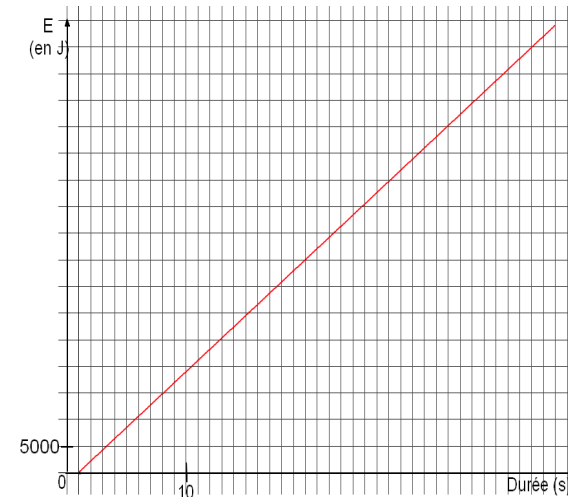
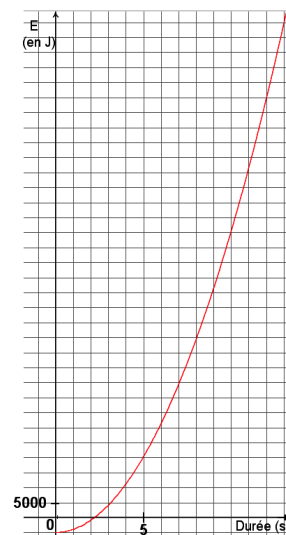
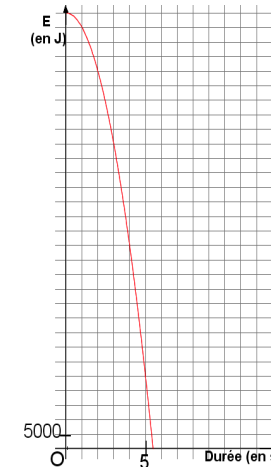
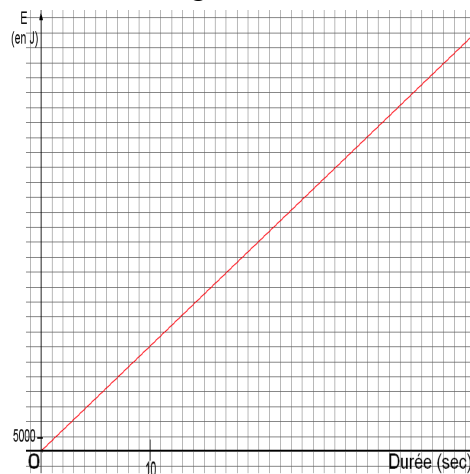
4°) Calculer l'énergie électrique dépensée par cette bouilloire en 40 secondes .

5°) Calculer la durée de fonctionnement de la bouilloire si l'énergie électrique dépensée a été de 462 000 J .

En sciences physiques, on apprend que pour un appareil électrique donné, l'énergie électrique consommée E (en joules) est toujours proportionnelle à la durée d de fonctionnement (en secondes). Le coefficient de proportionnalité est la puissance P de l'appareil (en Watts). On a donc:

$$E = P \times d$$

6°) Parmi les graphiques suivants, retrouver celui qui représente l'énergie électrique consommée par la bouilloire électrique étudiée précédemment en fonction de la durée, puis celui qui représente l'énergie électrique consommée par un sèche-linge de 3 500 W en fonction de la durée:



7°) Oublions ces énergies et puissances électriques, et passons à la température.
 Aux Etats-Unis, la température n'est pas mesurée avec des degrés Celsius comme nous, mais avec des degrés Fahrenheit. Voici la formule qui permet de passer des degrés Celsius C aux degrés Fahrenheit F:

$$F = \frac{9}{5} C + 32$$

On appelle g la fonction qui à la température en degrés Celsius associe la température en degrés Fahrenheit.

a) Comment s'écrit l'expression algébrique de la fonction g ?

$$F = g(C) = \dots\dots\dots$$

b) Cette fonction est-elle une fonction linéaire ? Pourquoi ?

c) Compléter son tableau de valeur:

C (température en degrés Celsius)	-10	0	15	25	30
$g(C)$ (température en degrés Fahrenheit)					

d) Quelle est la courbe représentative de cette fonction g parmi celles qui suivent ?

