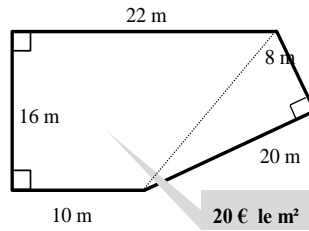


DÉCHIFFRER DES SCHÉMAS (doc 5)

EXERCICE 1

Quel est le prix de ce terrain ?



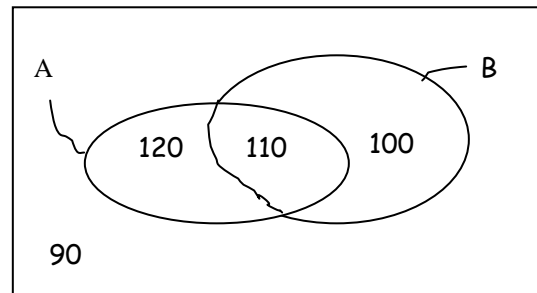
EXERCICE 2

Voici une répartition des collégiens

A : Élèves qui étudient l'anglais

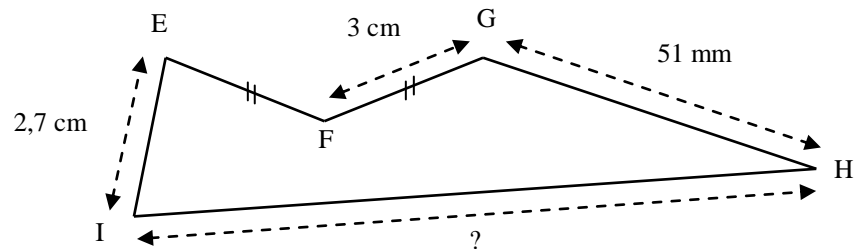
E : Élèves qui étudient l'espagnol

...

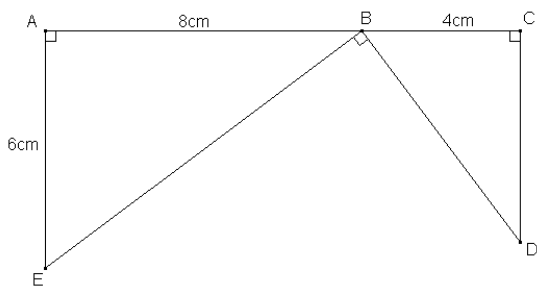


EXERCICE 3

Le périmètre de ce polygone étant égal à 2 dm, calcule IH.



EXERCICE 4



1. Écris les « données ».
2. Que peut-on dire des droites (EB) et (BD) ? Justifie ta réponse.
3. Que peut-on dire des droites (AE) et (CD) ? Justifie ta réponse.